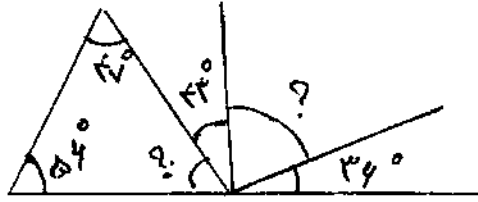
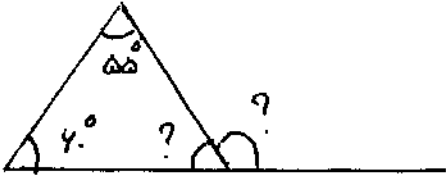


اندازه‌ی زاویه‌های خواسته شده را بدست آورید.

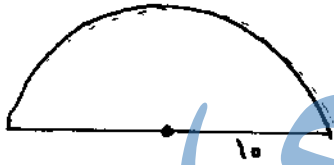
۸



$$۴,۳ + ۲,۵ =$$

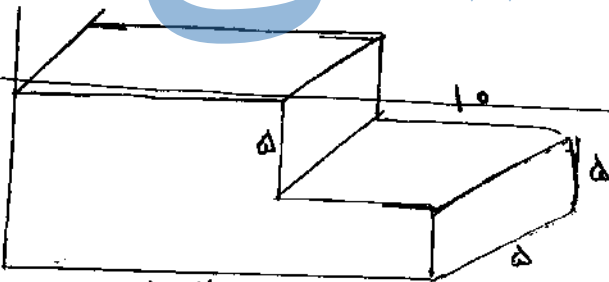
۹ برای جمع در یک مسئله بنویسید و محور رسم کنید.

۹



۱۰ محیط و مساحت شکل زیر را حساب کنید.

۱۰



۱۱ حجم شکل مقابل چند سانتی متر مکعب است.

۱۱


۲۰ سانتی متر

۱۲ مایکلیس سه عدد ۱۷۱۲۵ و ۱۳۱۷۵ و ۲۰ را بدست آورید.

۱۲

۱۳ مساحت قسمت عاشور خورده را بدست آورید.
(قطر بزرگ نوری ۱۰ و قطر کوچک نوری ۸ است)

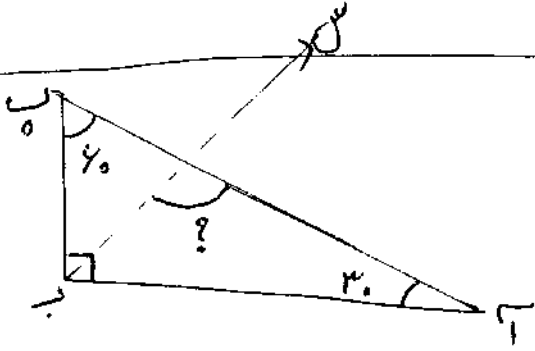
۱۳



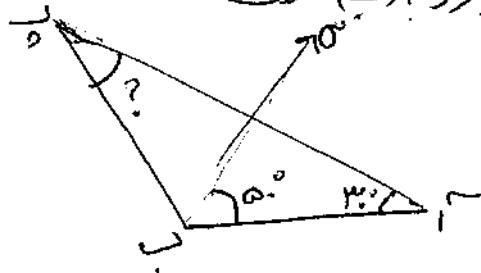
موفق باشید

۵۰۰۰۰۹۰۳۰۰	<p>۱ اعداد زیر را با حروف و رقم بنویسید. چهل میلیارد و چهار میلیون و هزار و چهارصد</p>												
<p>۲ در جای خالی عدد مناسب بنویسید. تا اسکناس پنجاه هزار ریالی می شود ۷ میلیون تومان. ۱۰۰ میلیون از تا هزار تا یا تا ده هزار تا و یا تا صد هزار تا ساخته شده است</p>													
<table border="1"> <tr> <td>لیتر</td> <td>متر</td> <td>سانتی متر</td> <td>میلی متر</td> </tr> <tr> <td>۷</td> <td>۵۳</td> <td>۵۰</td> <td>۴</td> </tr> <tr> <td>۲</td> <td>۸۰</td> <td>۴۰</td> <td>۷</td> </tr> </table>	لیتر	متر	سانتی متر	میلی متر	۷	۵۳	۵۰	۴	۲	۸۰	۴۰	۷	<p>۳ عبارت های زیر را حل کنید. $12 - 5 \frac{3}{7} =$ $5 \frac{2}{4} + 1 \frac{1}{4} =$ $\frac{8}{12} \times \frac{14}{14} =$</p>
لیتر	متر	سانتی متر	میلی متر										
۷	۵۳	۵۰	۴										
۲	۸۰	۴۰	۷										
$1 \frac{1}{4} \times 2 \frac{1}{3} =$	<p>۴ حاصل ضرب زیر را از طریق مساحتی (مثلث) پیدا کنید.</p>												
$\frac{4}{5} \times \frac{2}{3} =$	<p>۵ برای ضرب زیر مستطیم بنویسید و غورر رسم کنید.</p>												
<p>۶ نسبت پول علی به محمد ۷ به ۵ است. اگر اختلاف پول آنها ۲۲۰۰ تومان باشد. پول هر کدام چقدر است؟</p>													
<p>۷ کتاب فروشی کتاب های خود را با ۱۵٪ تخفیف ۶۵۰۰۰ تومان می فروشد. قیمت روی جلد کتاب چقدر است؟</p>													

۷ فروشنده‌ای لباس‌های خود را با ۱۵٪ تخفیف می‌فروشد. لباسی که قیمت آن ۲۰۰۰۰ تومان است چند بی‌فروشد.

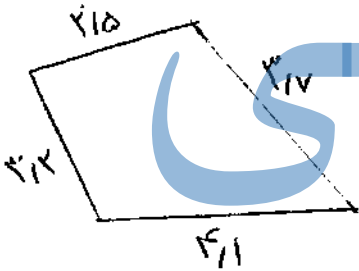


۸ اندازه زاویه‌های خراسته شده را بدست آورید.

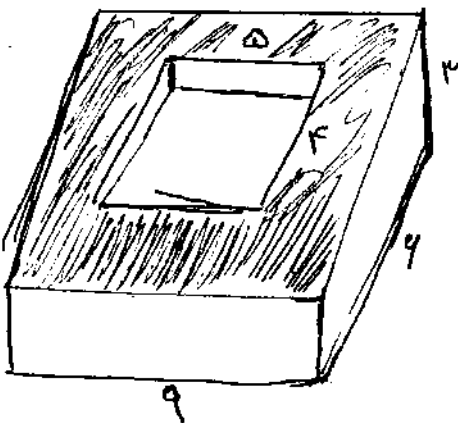


(لباس) همیشه ز زاویه‌ها است

۹ قیاس شکل‌های زیر را بدست آورید



۱۰ حجم شکل‌های زیر را بدست آورید.



۱۱ میانگین اعداد ۱۲، ۱۵، ۱۲، ۱۷، ۱۶

۱ عدد دوست و هشتاد و هشت میلیارد و دوست میلیون و هفتده را با رقم بنویسید.

۲ جاهای خالی را پر کنید.

۳۲۰,۰۰۰,۰۰۰ از تا یک میلیون ساخته شده است.

۱,۰۰۰,۰۰۰ از تا هزارتا و یا از تا ده هزارتا ساخته شده است.

۳ عبارت های زیر را حل کنید.

$$\begin{array}{r} 15 \quad 41' \quad 28'' \\ - \quad 3 \quad 16' \quad 48'' \\ \hline \end{array}$$

$$11 - 4 \frac{2}{7} =$$

$$\frac{7 \times 15}{14 \times 5} =$$

جزوه سیتی

$$2 \frac{1}{3} \times 3 \frac{1}{2}$$

۴ حاصل ضرب زیر را از طریق مساعی (مثل) پیدا کنید.

$$2 \frac{2}{5} \times \frac{4}{3} =$$

۵ برای ضرب زیر یک مسئله بنویسید و روی محور نمایش دهید.

۶ مجموع پول رضا و علی ۸۰۰۰۰ تومان است اگر نسبت پول رضا به علی ۵ به ۳ باشد پول هر کدام را بنویسید.